

SECRETARÍA NACIONAL DE EDUCACIÓN  
SUPERIOR, CIENCIA,  
TECNOLOGÍA E INNOVACIÓN

**SNNA**

Sistema Nacional de  
Nivelación y Admisión

**EXAMEN NACIONAL PARA LA EDUCACIÓN  
SUPERIOR**

**FORMA 1**

Código de identificación del estudiante

--	--	--	--	--	--	--	--	--	--	--

Proceso de Admisión a la Educación Superior  
Febrero de 2012

# APTITUD VERBAL

*En los siguientes reactivos, seleccione la opción que se asemeje al significado de la palabra en mayúsculas.*

## 1. CREENCIA

- a) docto
- b) atento
- c) fuerte
- d) dogma

## 2. SOSIEGO

- a) calma
- b) ruido
- c) llanto
- d) bacanal

## 3. INDESCRIPCIÓN

- a) indescifrable
- b) inestable
- c) inefable
- d) indeseable

## 4. IGUALDAD

- a) concordancia
- b) disparidad
- c) diversidad
- d) desavenencia

## 5. SALARIO

- a) saldo
- b) sueldo
- c) paga
- d) jornal

## 6. DOCTO

- a) diestro
- b) erudito
- c) aficionado
- d) agradable

La clave de control es

**H**

## **7. PARLANCHÍN**

- a) alocado
- b) justiciero
- c) locuaz
- d) aniñado

## **8. MEZQUINO**

- a) malvado
- b) avaro
- c) soberbio
- d) inconsciente

***En los siguientes reactivos, seleccione la opción que se asemeje al significado OPUESTO de la palabra en mayúsculas.***

## **9. INDIFERENCIA**

- a) apatía
- b) pereza
- c) fanatismo
- d) tolerancia

## **10. PROSPERAR**

- a) bloquear
- b) salvar
- c) menguar
- d) acortar

## **11. DILIGENCIA**

- a) desidia
- b) nacimiento
- c) cobarde
- d) acierto

***En los siguientes reactivos, seleccione la opción que exprese una relación similar a la de las palabras en mayúsculas.***

## **12. MANSO - LEÓN**

- a) dócil - feroz
- b) domado - salvaje
- c) fiero - tigre
- d) cordero - feroz

### **13. ORO - METAL**

- a) coco - palmera
- b) uva - viñedo
- c) ave - nido
- d) rosa - vegetal

### **14. JOYA - PIE**

- a) diamante - cuerpo
- b) quilate - pierna
- c) quilate - longitud
- d) oro - cuerpo

### **15. CABELLO - CALVO**

- a) peluca - cabeza
- b) lluvia - sequía
- c) piel - cicatriz
- d) saludable - enfermo

### **16. COPLA - POEMA**

- a) página - letra
- b) frase - párrafo
- c) número - dirección
- d) épico - poesía

### **17. PÚRPURA - COLOR**

- a) albahaca - especie
- b) incoloro - coloreado
- c) luz - oscuridad
- d) azul - arcoíris

### **18. LEVADURA - FERMENTO**

- a) soda - burbuja
- b) aspirina - medicina
- c) harina - masa
- d) yodo - antiséptico

### **19. MELODÍA - SONIDO**

- a) dibujo - trazo
- b) director - orquesta
- c) piano - tecla
- d) escultura - artista

## 20. AVARICIA - DINERO

- a) alcohol - leche
- b) voracidad - alimento
- c) propio - deseo
- d) dólares - capitalismo

## 21. Seleccione la palabra que dé coherencia a la frase.

*Un mitin siempre tiene:*

- a) discurso
- b) aplausos
- c) tarima
- d) propaganda

***En los siguientes reactivos, seleccione la opción que NO se relacione con la palabra en mayúsculas.***

## 22. BOATO

- a) pompa
- b) sencillez
- c) lujo
- d) rimbombancia

## 23. PRÓLOGO

- a) introito
- b) diálogo
- c) preámbulo
- d) exordio

***En los siguientes reactivos, seleccione la opción que contenga el par de palabras que den sentido a la oración.***

24. \_\_\_\_\_ la tormenta, no podíamos salir de nuestras casas hasta que \_\_\_\_\_.

- a) Arreciaba - amainara
- b) Inundaba - acabara
- c) Destruía - mitigara
- d) Apercibía - finalizara

25. La novela era tan \_\_\_\_\_ que no cesó de leer hasta el \_\_\_\_\_.

- a) extensa - final
- b) emocionante - aburrimiento
- c) interesante - amanecer
- d) monótona - cansancio

**26. Tal vez la democracia sea el \_\_\_\_\_ político más aceptable, pero no \_\_\_\_\_ la sensatez de la voluntad popular.**

- a) gobierno - implica
- b) medio - obtiene
- c) sistema - garantiza
- d) proyecto - reconoce

**27. Escoja la opción que dé sentido a la siguiente expresión.**

\_\_\_\_\_ es a duro como betún es a \_\_\_\_\_.

- a) Oscuro - negro
- b) Metal - alquitrán
- c) Antracita - blando
- d) Bronce - lubricante

**Lea el siguiente fragmento y elija la respuesta correcta.**

“Magia adormecedora vierte el río, en la calma monótona del viaje. Cuando borra lo lejos del paisaje la sombra que se extiende en el vacío. Ocultan en sus negruras al bohío la mañana tupida, y el follaje semeja los calados de un encaje, al caer del crepúsculo sombrío.”

**28. En el texto se afirma que el viaje es:**

- a) placentero
- b) borrascoso
- c) aburrido
- d) peligroso

**29. Seleccione la opción que ordene todas las palabras en una oración con sentido lógico.**

**cantares/las/prolongan/sus/aves/matinales/**

- a) Las aves matinales prolongan su cantar
- b) Las aves prolongan sus cantares matinales
- c) Los cantares matinales prolongan sus aves
- d) Sus aves prolongan las cantares matinales

**En los siguientes reactivos, seleccione la opción que muestre el significado de la oración.**

**30. Corazón apasionado, no quiero ser aconsejado.**

- a) El corazón es sensiblero y sentimental
- b) La pasión no lleva a ningún lado
- c) Alude a que la pasión anula la razón
- d) No es bueno dar consejo a una persona obsesionada

**31. Pregonar vino y vender vinagre.**

- a) En boca del mentiroso, lo cierto se hace dudoso
- b) Hay personas que ofrecen mucho y cumplen poco
- c) Para los alcohólicos el vino y el vinagre son la misma cosa
- d) Carrera de caballo y parada de borrico

**32. A cada día le basta su pena.**

- a) Nadie está obligado a lo imposible
- b) Basta con las preocupaciones de cada día
- c) Cada día hay muchos problemas que resolver
- d) Cada semana hay que evaluar lo que sucedió cada día

**33. Del dicho al hecho hay gran trecho.**

- a) Hay verdades que nos duelen y nos hacen mucho daño
- b) Las promesas hechas con sinceridad siempre se cumplen
- c) Todas las personas hablan, pero casi nadie escucha
- d) Suele ser mucho menos lo que se cumple que lo que se ofrece

**34. Al amigo y al caballo no cansarlo ni apretarlo.**

- a) Una buena amistad se conserva siempre
- b) No conviene importunar a las amistades
- c) Los hombres y los animales son muy alterables
- d) La gente siempre busca amistades

**35. Seleccione la palabra que complete la oración correctamente.**

La embarcación azotada por el oleaje dio un \_\_\_\_\_ violento.

- a) vuelco
- b) fruto
- c) correazo
- d) bandazo

**Lea el siguiente fragmento y elija la opción que completa el planteamiento.**

Aunque hay ciertas necesidades comunes a todos, tales como el hambre, la sed, el apetito sexual; aquellos impulsos que contribuyen a establecer la diferencia entre los caracteres de los hombres con el amor, el odio, el deseo de poder y el anhelo de sumisión, el goce de los placeres sexuales y el miedo a este goce, todos ellos son resultante del proceso social. Las inclinaciones humanas más bellas, así como las más repugnantes, no forman parte de una naturaleza humana fija y biológicamente dada, sino que resultan del proceso social que crea el hombre.

**36. El goce de los placeres sexuales\_\_\_\_\_.**

- a) corresponde al impulso sexual
- b) es una necesidad humana básica
- c) es una necesidad reprimida
- d) se adquiere como factor psicológico

**37. Seleccione la opción que ordene todas las palabras en una oración con sentido lógico.**

**Gobierno/Absolutista/la/acabó/con/Revolución/el/Monárquico/Francesa/**

- a) La Revolución Absolutista Francesa acabó con el Gobierno Monárquico
- b) El Gobierno Monárquico Absolutista acabó con la Revolución Francesa
- c) La Revolución Absolutista Francesa acabó con el Monárquico Gobierno
- d) La Revolución Francesa acabó con el Gobierno Monárquico Absolutista

***En los siguientes reactivos, seleccione la opción que dé sentido lógico a la analogía propuesta.***

**38. \_\_\_\_\_ es a broca como esculpir es a\_\_\_\_\_.**

- a) Taladrar - bisturí
- b) Romper - escultor
- c) Perforar - cincel
- d) Perforar - estatua

**39. \_\_\_\_\_ es a madera como limadura es a\_\_\_\_\_.**

- a) Aserrín - metal
- b) Mesa - herramienta
- c) Árbol - residuo
- d) Carpintero - metal

**40. \_\_\_\_\_ es a rey como báculo es a\_\_\_\_\_.**

- a) Corona - apoyo
- b) Cetro - obispo
- c) Reina - dignidad
- d) Reino - cayado



# RAZONAMIENTO NUMÉRICO

41. Una sucesión de números empieza con 1 y la secuencia que sigue es que se suma tres y se resta uno cada vez. ¿Cuál es el noveno término?

- a) 7
- b) 15
- c) 17
- d) 10

42. Una persona compra tres docenas de lápices, 12 cuadernos y 10 resmas de papel en \$62.4, si cada lápiz cuesta \$0.30 y cada cuaderno \$1.80, el costo de cada resma es:

- a) \$1.5
- b) \$1.2
- c) \$1.0
- d) \$3.0

43. Si en una tienda de electrodomésticos compramos un refrigerador de 500 dólares con un 10% de descuento y una lámpara de 60 dólares con un 20% de descuento. ¿Cuánto hemos gastado?

- a) \$498
- b) \$488
- c) \$448
- d) \$408

44. Los  $\frac{4}{5}$  de un número es 40. ¿Cuánto serán los  $\frac{3}{10}$  del mismo número?

- a) 15
- b) 20
- c) 10
- d) 76

45. Si tengo  $\frac{7}{8}$  de dólar, ¿Cuánto me falta para tener un dólar?

- a)  $\frac{5}{9}$
- b)  $\frac{11}{8}$
- c)  $\frac{1}{8}$
- d)  $\frac{3}{10}$

46. El valor de  $(5)^{43} - (5)^{42}$  es igual a:

- a)  $4(5)^{43}$
- b)  $5(5)^{42}$
- c)  $4(5)^{42}$
- d) 5

**47. El 35% de una hora es equivalente en minutos a:**

- a) 2
- b) 21
- c) 35
- d) 15

**48. Cuatro veces un número es igual al número aumentado en 30, entonces el cuadrado del número es:**

- a) 100
- b) 121
- c) 169
- d) 400

**49. ¿Cuál es la fracción generatriz de 0.1818?**

- a)  $909/5000$
- b)  $1818/5000$
- c)  $1818/1000$
- d)  $909/10000$

**50. Hallar cuatro números cuya suma sea 90. El segundo es el doble del primero, el tercero es el doble del segundo y el cuarto es el doble del tercero. ¿Cuáles son los números?**

- a) 8, 16, 32, 64
- b) 5, 10, 20, 40
- c) 6, 12, 24, 48
- d) 10, 20, 40, 20

**51. La semisuma de dos números es 10, y su semidiferencia es 5, ¿cuál es el mínimo común múltiplo de dichos números?**

- a) 25
- b) 20
- c) 15
- d) 10

**52. ¿De qué número es 84 dos quintos más?**

- a) 50
- b) 48
- c) 60
- d) 36

**53. En una granja hay patos y gallinas en razón 9:10, si se sacan 19 gallinas, la razón se invierte. ¿Cuántas gallinas había inicialmente?**

- a) 10
- b) 81
- c) 90
- d) 100

**54. La cabeza de una foca mide 15 cm de longitud, su cola es tan larga como la cabeza y mide la mitad del lomo. El lomo es tan largo como la cabeza y la cola juntas. Entonces la foca mide:**

- a) 30 cm
- b) 45 cm
- c) 60 cm
- d) 65 cm

**55. Un estudiante está tomando cuatro materias este semestre. Si sus calificaciones en tres de ellas son: 3.2, 2.5 y 4.1, ¿cuál debe ser la nota en la otra materia para tener un promedio de 3.5?**

- a) 4.2
- b) 2.4
- c) 4.0
- d) 3.2

**56. Al adquirir un vehículo cuyo precio es \$ 8800 se hace un descuento del 8%. ¿Cuánto hay que pagar por el vehículo?**

- a) \$ 8144
- b) \$ 8120
- c) \$ 8100
- d) \$ 8096

**57. El valor de  $(16)^{2^{-1}} + (25)^{2^{-1}}$  es:**

- a) 9/20
- b) 4/5
- c) 9/5
- d) 21/5

**58. Se vende un artículo con una ganancia del 15% sobre el precio de costo. Si se ha comprado en \$ 80. Hallar el precio de venta.**

- a) \$ 95
- b) \$ 90
- c) \$ 92
- d) \$ 91

**59. La edad de Cristina es un tercio de la edad de su padre y dentro de 16 años será la mitad, entonces la edad de Cristina es:**

- a) 16 años
- b) 24 años
- c) 36 años
- d) 48 años

**60. Cinco trabajadores construyen una muralla en 6 horas. ¿Cuántos trabajadores se necesitan para construir 8 murallas en un solo día?**

- a) 12
- b) 15
- c) 20
- d) 10

**61. El valor de  $(3^4 \div 3^2 + 12) + (2^4 \div 2^3 + 3 \times 10)$  es:**

- a) 23
- b) 45
- c) 76
- d) 53

**62. La suma de dos números es 24. Tres veces el mayor excede en dos unidades a cuatro veces el menor. Hallar los números.**

- a) 14 y 16
- b) 8 y 14
- c) 20 y 10
- d) 14 y 10

**63. La suma de A más B es 116. A es 3 menos que C y al mismo tiempo A es 4 más que B. ¿Qué número es C?.**

- a) 63
- b) 58
- c) 65
- d) 67

**64. Un aeroplano recorrió 1940 km el primer día, el segundo recorrió 340 km más que el primero y el tercero 890 km menos que entre los dos anteriores. ¿Cuántos km recorrió el aeroplano en total?**

- a) 345 km
- b) 6678 km
- c) 7550 km
- d) 2341 km

**65. El precio de un ordenador es de \$1200 sin IVA. ¿Cuánto hay que pagar por él si el IVA es del 16%?**

- a) \$1392
- b) \$1390
- c) \$1395
- d) \$1391

**66. Dos veces el área de un cuadrado de lado L es igual a cuatro veces el área de un triángulo de altura L. ¿Cuál es la base del triángulo?**

- a) 2 L
- b) L
- c) 1/2 L
- d) 2 L /2

**67. Una docena de galletas cuesta \$6m y media docena de pasteles cuesta \$12n. ¿Cuál de las expresiones siguientes representa el valor en dólares de media docena de galletas y dos docenas de pasteles?**

- a)  $3(m+8n)$
- b)  $3(m+16n)$
- c)  $6(4m+n)$
- d)  $12(m+4n)$

**68. Si el lado de un cuadrado es 5 cm más largo que el de otro cuadrado y las áreas de los cuadrados difieren en  $105 \text{ cm}^2$ , entonces el lado del cuadrado más pequeño mide:**

- a) 5 cm
- b) 7 cm
- c) 13 cm
- d) 8 cm

**69. Si  $\frac{x}{y} = -1$ , entonces  $x + y = ?$**

- a) 1
- b) 2x
- c) 2y
- d) 0

**70. Si  $a = b$ , entonces:**

- a)  $a + b = a$
- b)  $a - b = b$
- c)  $a + b = 2b$
- d)  $2a + b = b$

**71. ¿Cuál es el número cuyo  $\frac{2}{5}$  equivale a 50?**

- a) 83
- b) 135
- c) 120
- d) 125

**72. ¿Cuál es el valor de la expresión  $(2+0.5)\div(2-0.5)$ ?**

- a)  $\frac{5}{2}$
- b)  $\frac{3}{5}$
- c)  $\frac{15}{4}$
- d)  $\frac{5}{3}$

**73. Entre  $\frac{1}{2}$  y  $\frac{2}{3}$  ¿qué número existe?**

- a)  $\frac{4}{5}$
- b)  $\frac{1}{6}$
- c)  $\frac{2}{5}$
- d)  $\frac{7}{12}$

**74. El valor de  $(x + y)$  en la sucesión 1.45; 1.49; 1.57; x; 1.85; 2.05; y es:**

- a) 2.18
- b) 2.29
- c) 3.98
- d) 4.58

**75. Para la preparación de una mermelada se necesitan 12 manzanas que cuestan en total \$ 1.60. ¿Cuánto costarán 72 manzanas?**

- a) \$9.0
- b) \$9.4
- c) \$9.6
- d) \$9.8

**76. Se necesitan 120 kg de heno para mantener 12 caballos durante 20 días. ¿Qué cantidad de heno se necesitará para mantener 7 caballos durante 36 días?**

- a) 125
- b) 126
- c) 124
- d) 127

**77. Nueve albañiles, en 21 días, trabajando 8 horas cada día, han pintado un edificio. ¿Cuántas horas diarias hubieran tenido que trabajar 4 albañiles, para hacer lo mismo en 7 días?**

- a) 55
- b) 54
- c) 53
- d) 52

**78. Ocho obreros trabajan 18 días para poner 16 metros cuadrados de cerámica. ¿Cuántos metros cuadrados de cerámica pondrán 10 obreros si trabajan 9 días?**

- a) 18
- b) 15
- c) 10
- d) 9

**79. Si de mi colección de sellos se pierden 2, o lo que es lo mismo el 4% del total. ¿Cuántos sellos tenía?**

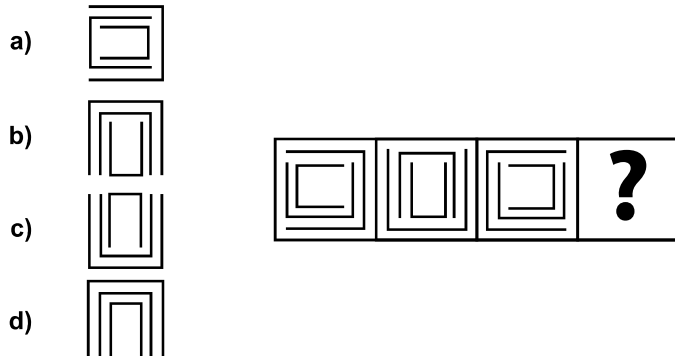
- a) 60
- b) 50
- c) 40
- d) 55

**80. Un comerciante debe cortar una pieza de tela de 40 m en trozos de 1 m. Si necesita 6 segundos para efectuar cada corte, la cantidad de segundos que tardará en su trabajo es:**

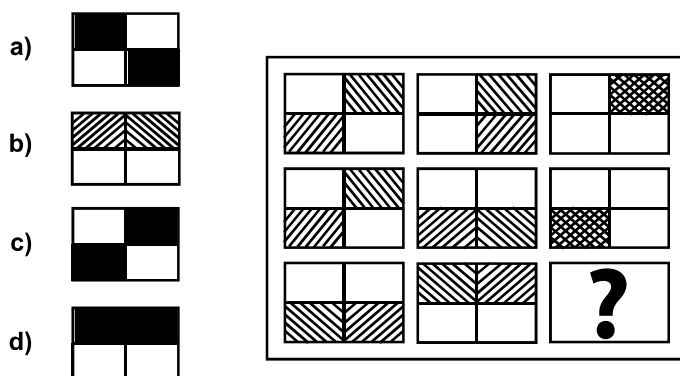
- a) 240
- b) 246
- c) 234
- d) 420

# RAZONAMIENTO ABSTRACTO

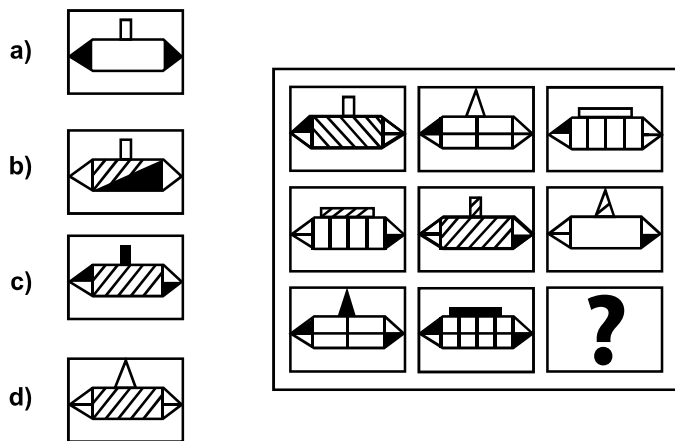
81. ¿Cuál de las alternativas reemplaza al signo de interrogación?



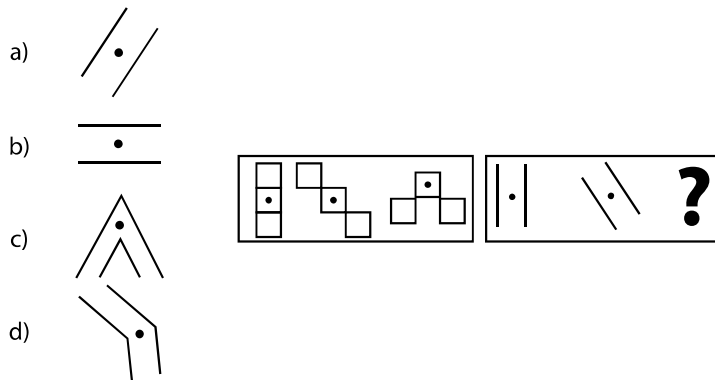
82. ¿Cuál de las alternativas reemplaza al signo de interrogación?



83. ¿Cuál de las alternativas reemplaza al signo de interrogación?





84. ¿Cuál de las alternativas reemplaza al signo de interrogación?







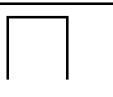
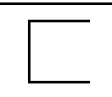
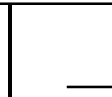
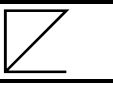
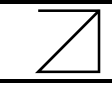
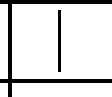
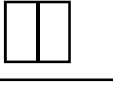
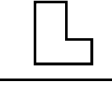

85. ¿Cuál de las alternativas reemplaza al signo de interrogación?

a) 


b) 


c) 


d) 


		
		
		





86. ¿Cuál de las alternativas reemplaza al signo de interrogación?

a) 


b) 


c) 


d) 


		
		
		






87. ¿Cuál de las alternativas reemplaza al signo de interrogación?

a) 


b) 


c) 


d) 


								
---	---	---	---	--	--	--	--	---







88. ¿Cuál de las alternativas reemplaza al signo de interrogación?

a) 

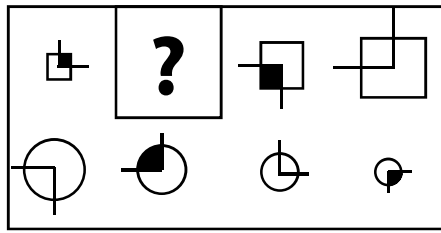
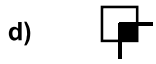

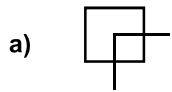
b) 

c) 

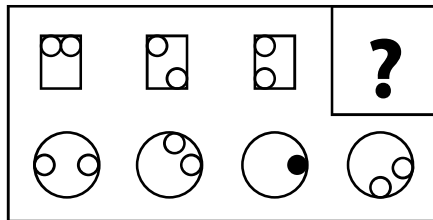
d) 

					
---	---	---	---	---	---

89. ¿Cuál de las alternativas reemplaza al signo de interrogación?



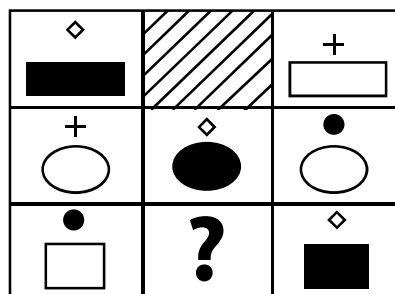
90. ¿Cuál de las alternativas reemplaza al signo de interrogación?



91. ¿Cuál de las alternativas reemplaza al signo de interrogación?

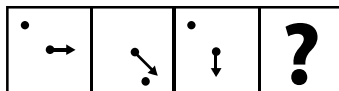


92. ¿Cuál de las alternativas reemplaza al signo de interrogación?




93. ¿Cuál de las alternativas reemplaza al signo de interrogación?

- a)
- b)
- c)
- d)




94. ¿Cuál de las alternativas reemplaza al signo de interrogación?

- a)
- b)
- c)
- d)




95. ¿Cuál de las alternativas reemplaza al signo de interrogación?

- a)
- b)
- c)
- d)







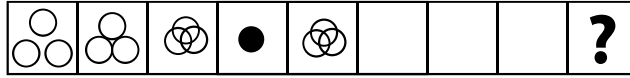
96. ¿Cuál de las alternativas reemplaza al signo de interrogación?

- a)
- b)
- c)
- d)







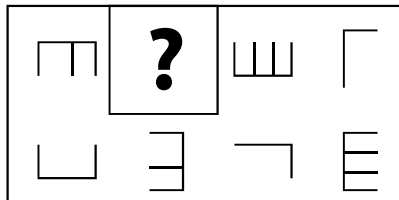
97. ¿Cuál de las alternativas reemplaza al signo de interrogación?

- a) 
- b) 
- c) 
- d) 







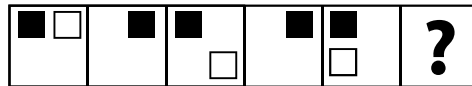
98. ¿Cuál de las alternativas reemplaza al signo de interrogación?

- a) 
- b) 
- c) 
- d) 








99. ¿Cuál de las alternativas reemplaza al signo de interrogación?

- a) 
- b) 
- c) 
- d) 







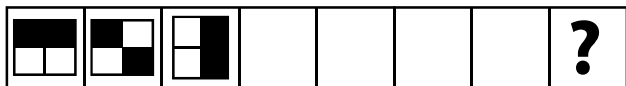
100. ¿Cuál de las alternativas reemplaza al signo de interrogación?

- a) 
- b) 
- c) 
- d) 







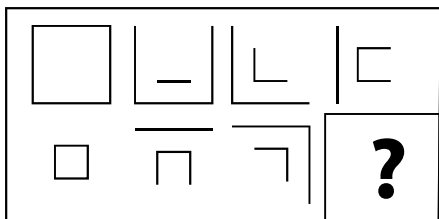
101. ¿Cuál de las alternativas reemplaza al signo de interrogación?

- a) 
- b) 
- c) 
- d) 







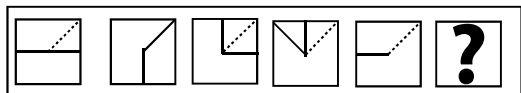
102. ¿Cuál de las alternativas reemplaza al signo de interrogación?

- a) 
- b) 
- c) 
- d) 

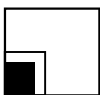
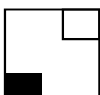
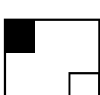
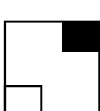


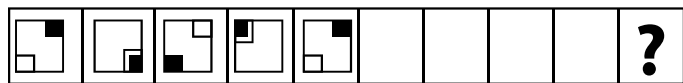
103. ¿Cuál de las alternativas reemplaza al signo de interrogación?

- a) 
- b) 
- c) 
- d) 



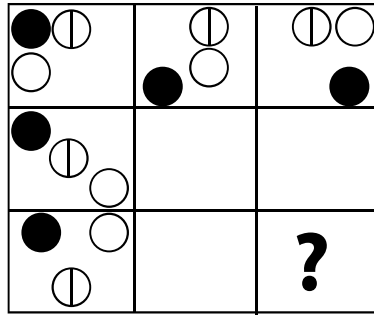
104. ¿Cuál de las alternativas reemplaza al signo de interrogación?

- a) 
- b) 
- c) 
- d) 



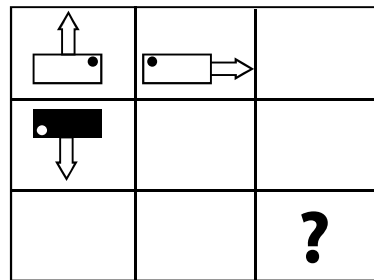
105. ¿Cuál de las alternativas reemplaza al signo de interrogación?

- a)
- b)
- c)
- d)



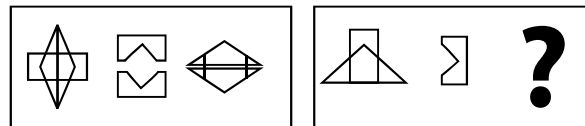
106. ¿Cuál de las alternativas reemplaza al signo de interrogación?

- a)
- b)
- c)
- d)



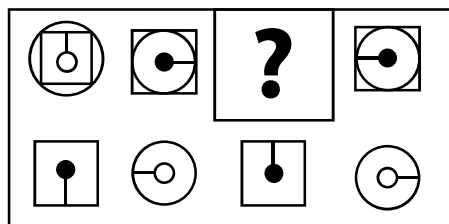
107. ¿Cuál de las alternativas reemplaza al signo de interrogación?

- a)
- b)
- c)
- d)







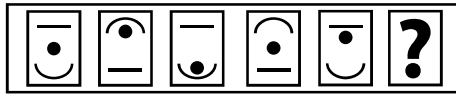
108. ¿Cuál de las alternativas reemplaza al signo de interrogación?

- a)
- b)
- c)
- d)








109. ¿Cuál de las alternativas reemplaza al signo de interrogación?

- a) 
- b) 
- c) 
- d) 







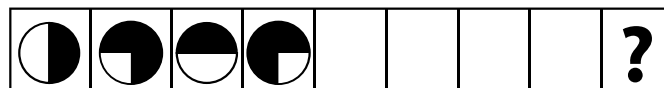
110. ¿Cuál de las alternativas reemplaza al signo de interrogación?

- a) 
- b) 
- c) 
- d) 








111. ¿Cuál de las alternativas reemplaza al signo de interrogación?

- a) 
- b) 
- c) 
- d) 





112. ¿Cuál de las alternativas reemplaza al signo de interrogación?


- a) 
- b) 
- c) 
- d) 




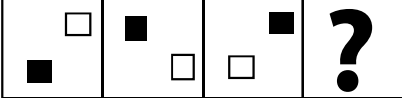
113. ¿Cuál de las alternativas reemplaza al signo de interrogación?

a) 

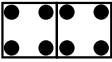
b) 

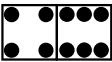
c) 

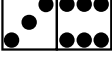
d) 




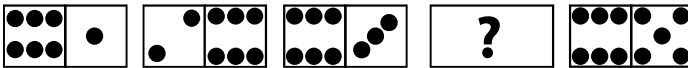
114. ¿Cuál de las alternativas reemplaza al signo de interrogación?

a) 


b) 


c) 


d) 





115. ¿Cuál de las alternativas reemplaza al signo de interrogación?

a) 


b) 


c) 


d) 




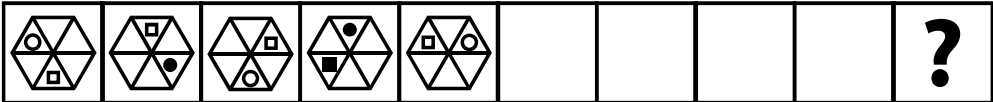
116. ¿Cuál de las alternativas reemplaza al signo de interrogación?

a) 

b) 

c) 

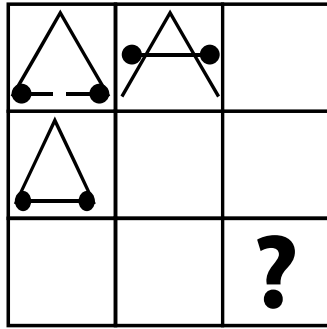
d) 





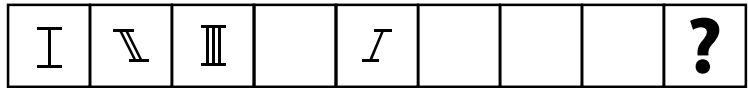
117. ¿Cuál de las alternativas reemplaza al signo de interrogación?

- a)
- b)
- c)
- d)



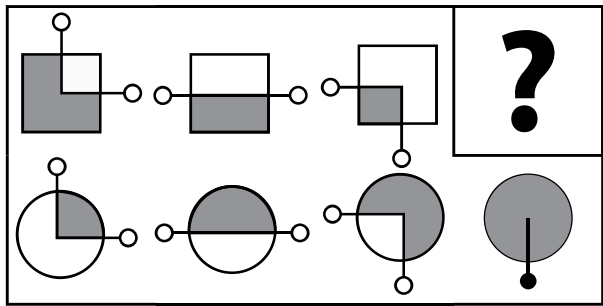
118. ¿Cuál de las alternativas reemplaza al signo de interrogación?

- a)
- b)
- c)
- d)




119. ¿Cuál de las alternativas reemplaza al signo de interrogación?

- a)
- b)
- c)
- d)



120. ¿Cuál de las alternativas reemplaza al signo de interrogación?

- a)
- b)
- c)
- d)



# SECRETARÍA NACIONAL DE EDUCACIÓN SUPERIOR, CIENCIA, TECNOLOGÍA E INNOVACIÓN

## EXAMEN NACIONAL PARA LA EDUCACIÓN SUPERIOR

¡Bienvenido al Sistema Nacional de Nivelación y Admisión para las Instituciones de Educación Superior del Ecuador!

A partir de ahora, comenzará usted a rendir el Examen Nacional para la Educación Superior (ENES), esta prueba tiene tres componentes: aptitud verbal, razonamiento numérico y razonamiento abstracto; los cuales permitirán evaluar sus posibilidades para cursar con éxito los estudios superiores, garantizando igualdad de oportunidades, mérito y capacidad para todos los ciudadanos y ciudadanas de este gran país, tal y como lo establece la Ley Orgánica de Educación Superior.

A continuación encontrará las indicaciones para completar sus datos en la hoja de respuestas, lea con mucha atención.

1. Por favor, no inicie la prueba hasta que el aplicador se lo indique.
2. Siga las instrucciones del aplicador al pie de la letra para completar los datos de la hoja de respuestas.
3. Verifique que su cuadernillo de preguntas tenga en buen estado el sello de seguridad, en caso de hallar alguna alteración, al finalizar la prueba comuníquese al contact center 1800-ADMISION su llamada es anónima.
4. Confirme que el número de la portada del cuadernillo de preguntas que se le ha entregado es el mismo que el indicado en la hoja de respuestas.
5. Escriba en el cuadernillo de preguntas su código de estudiante, recuerde que éste le identifica de manera única.
6. Cuando el evaluador se lo indique, rompa el sello de seguridad del cuadernillo de preguntas.
7. Revise que el cuadernillo se encuentre en óptimas condiciones, que esté bien compaginado y que la numeración de las hojas sea correcta.
8. Durante el examen, lea completa y detenidamente cada pregunta, así como todas las opciones de respuesta.
9. Marque únicamente una respuesta, la que usted considere correcta.
10. Si encuentra dificultad en la resolución de una pregunta, no se detenga, continúe a la siguiente, al final si le queda tiempo, podrá volver sobre aquellas que no resolvió.
11. Verifique que haya completado adecuadamente sus datos en la hoja de respuestas, los errores en el llenado pueden invalidar su prueba.
12. Este examen tendrá una duración de dos horas / 120 minutos.